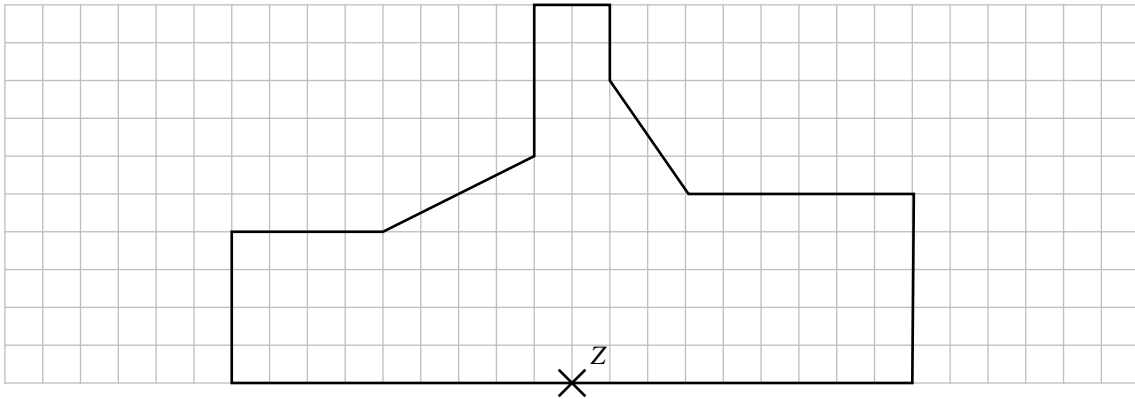
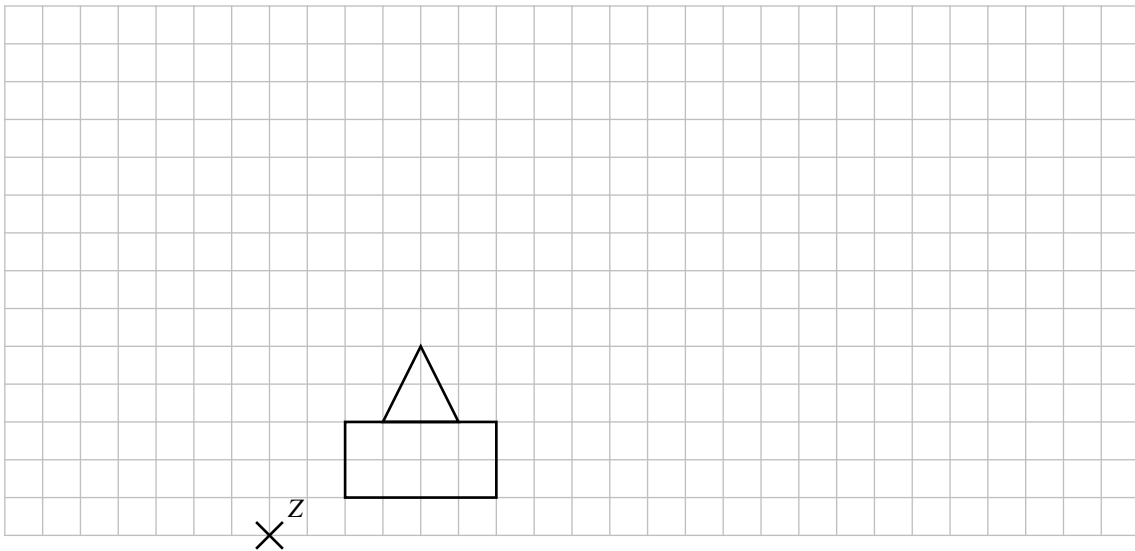


Übungen

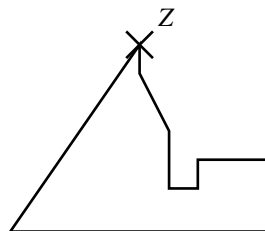
Aufgabe 1: Verkleinere von dem Kreuz aus mit $k = 0,5$.



Aufgabe 2: Vergrößere von dem Kreuz aus mit $k = 2,5$



Aufgabe 3: Vergrößere von dem Kreuz aus mit $k = 2,5$

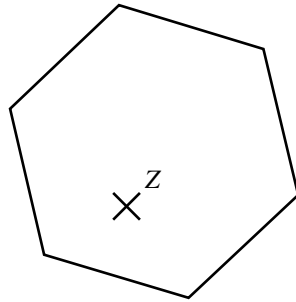


Bitte wenden...

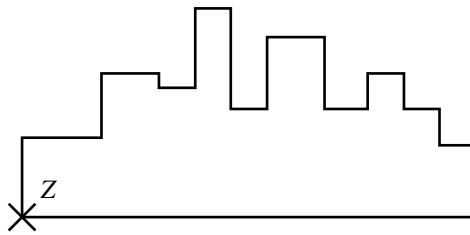


Übungen


Aufgabe 4: Vergrößere von dem Kreuz aus mit $k = 1,5$



Aufgabe 5: Verkleinere von dem Kreuz aus mit $k = 0,4$.

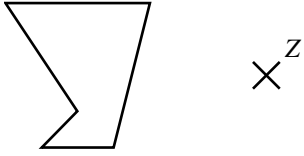


Aufgabe 6: Strecke von dem Kreuz aus mit $k = -1$.

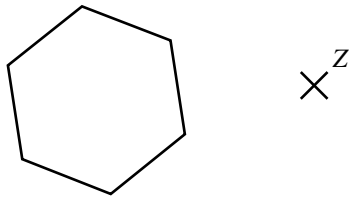


Übungen

Aufgabe 7: Strecke von dem Kreuz aus mit $k = -1,5$.



Aufgabe 8: Strecke von dem Kreuz aus mit $k = -0,5$.



Aufgabe 9: Strecke von dem Kreuz aus mit $k = -2,5$.

