

Aufgaben zu Rechenbäumen

Aufgabe 1: Berechne die Rechenausdrücke mit Hilfe eines Rechenbaumes.

(a) $17 + 8 \cdot 4$

(d) $40 \cdot 5 + 3 \cdot 5$

(b) $(29 - 9) \cdot 6$

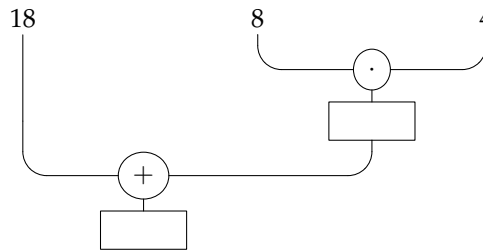
(e) $(23 - 15) \cdot 7 + 4$

(c) $33 \cdot (16 + 24)$

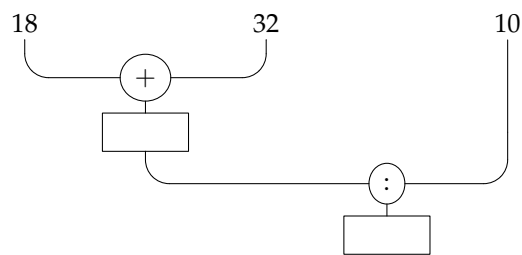
(f) $18 + 9 \cdot 2 + 23$

Aufgabe 2: „Übersetze“ die Rechenbäume in einen Rechenausdruck. Rechne

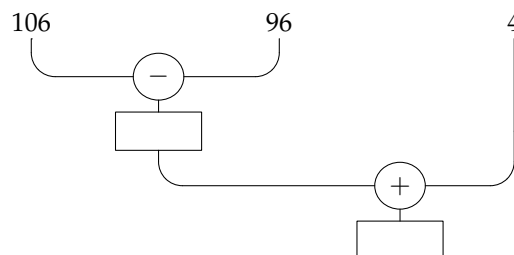
(a)



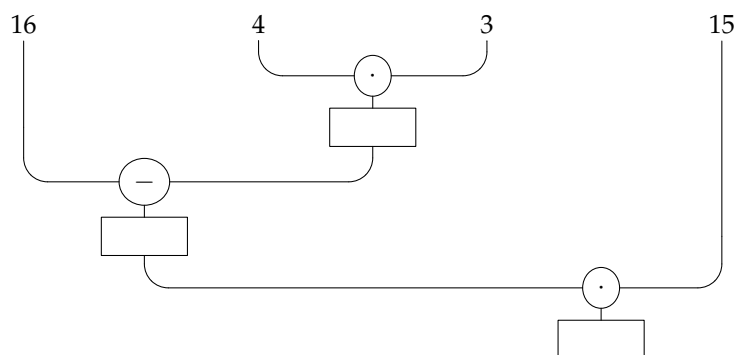
(b)



(c)



(d)



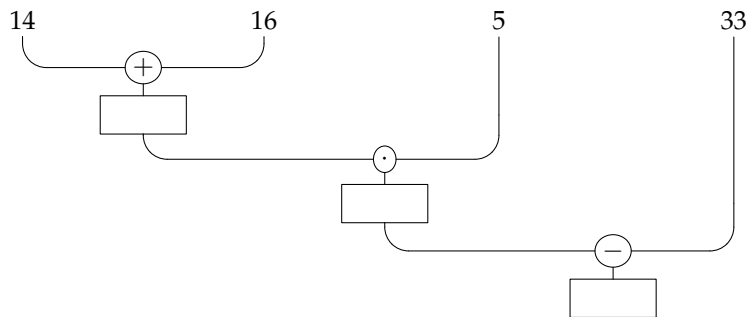
Bitte wenden...



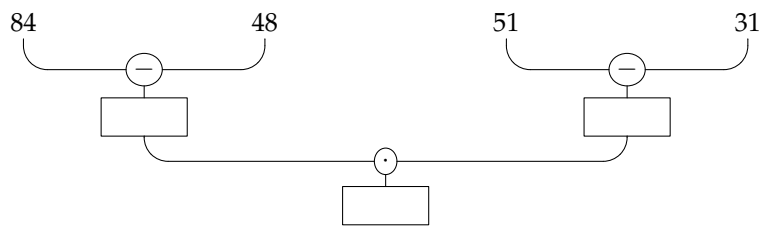
Aufgaben zu Rechenbäumen

Aufgabe 3: „Übersetze“ die Rechenbäume in einen Rechenausdruck. Rechne

(a)



(b)



(c)

